

Sicherheitseinrichtungen (1)

A1 In einem naturwissenschaftlichen Fachraum gibt es viele Sicherheitseinrichtungen und Schutzausrüstungen.

a) Ordne die folgenden Bezeichnungen den Bildern richtig zu.
Feuerlöscher, Erste-Hilfe-Kasten, Augenspülflasche, Schutzbrille, NOT-AUS-Schalter, Fluchtwegschild, Löschdecke

b) Übertrage die folgenden Aufgabenbeschreibungen in die Tabelle und setze in die Lücken jeweils die richtige Bezeichnungen aus a) ein.

Der ... kann Brände löschen.

Die ... kann die Kleidung von Mitschülerinnen und Mitschülern löschen, wenn sie Feuer gefangen hat.








Das ... zeigt den Weg ins Freie.

Die ... schützt meine Augen vor Fremdkörpern (z. B. Flüssigkeiten, Splitter).

Der ... unterbricht alle Strom- und Gasleitungen.

Die ... kann Fremdkörper aus dem Auge auswaschen.

Im ... gibt es Verbandsmaterial für kleinere Verletzungen.

	a) Was ist das?	b) Aufgabenbeschreibung
		
		
		
		
		
		
		

Sicherheitseinrichtungen (1) – Lösung

A1 In einem naturwissenschaftlichen Fachraum gibt es viele Sicherheitseinrichtungen und Schutzausrüstungen.

a) Ordne die folgenden Bezeichnungen den Bildern richtig zu.
Feuerlöscher, Erste-Hilfe-Kasten, Augenspülflasche, Schutzbrille, NOT-AUS-Schalter, Fluchtwegschild, Löschdecke

b) Übertrage die folgenden Aufgabenbeschreibungen in die Tabelle und setze in die Lücken jeweils die richtige Bezeichnungen aus a) ein.

Der ... kann Brände löschen.

Die ... kann die Kleidung von Mitschülerinnen und Mitschülern löschen, wenn sie Feuer gefangen hat.

Das ... zeigt den Weg ins Freie.

Die ... schützt meine Augen vor Fremdkörpern (z. B. Flüssigkeiten, Splitter).

Der ... unterbricht alle Strom- und Gasleitungen.








Die ... kann Fremdkörper aus dem Auge auswaschen.

Im ... gibt es Verbandsmaterial für kleinere Verletzungen.

	a) Was ist das?	b) Aufgabenbeschreibung
	NOT-AUS-Schalter	Der NOT-AUS-Schalter unterbricht alle Strom- und Gasleitungen.
	Fluchtwegschild	Das Fluchtwegschild zeigt den Weg ins Freie.
	Erste-Hilfe-Kasten	Im Erste-Hilfe-Kasten gibt es Verbandsmaterial für kleinere Verletzungen.
	Feuerlöscher	Der Feuerlöscher kann Brände löschen.
	Löschdecke	Die Löschdecke kann die Kleidung von Mitschülerinnen und Mitschülern löschen, wenn sie Feuer gefangen hat.
	Augenspülflasche	Die Augenspülflasche kann Fremdkörper aus dem Auge auswaschen.
	Schutzbrille	Die Schutzbrille schützt meine Augen vor Fremdkörpern (z. B. Flüssigkeiten, Splitter).

Sicherheitseinrichtungen (2)

A1 In einem naturwissenschaftlichen Fachraum gibt es viele Sicherheitseinrichtungen und Schutzausrüstungen. Fülle folgende Tabelle aus.

	a) Was ist das?	b) Aufgabenbeschreibung
		
		
		
		
		
		
		

A2 In diesen Fällen droht Gefahr. Trage die entsprechenden Maßnahmen in der freien Spalte der Tabelle ein.

Unfall mit einem Elektrogerät	
Der Pulli deines Mitschülers hat Feuer	
Eine Person ist verletzt.	
Der Gasbrenner geht aus.	

Sicherheitseinrichtungen (2) – Lösung

A1 In einem naturwissenschaftlichen Fachraum gibt es viele Sicherheitseinrichtungen und Schutzausrüstungen. Fülle folgende Tabelle aus.

	a) Was ist das?	b) Aufgabenbeschreibung
	NOT-AUS-Schalter	Der NOT-AUS-Schalter unterbricht alle Strom- und Gasleitungen.
	Fluchtwegschild	Das Fluchtwegschild zeigt den Weg ins Freie.
	Erste-Hilfe-Kasten	Im Erste-Hilfe-Kasten gibt es Verbandsmaterial für kleinere Verletzungen.
	Feuerlöscher	Der Feuerlöscher kann Brände löschen.
	Löschdecke	Die Löschdecke kann die Kleidung von Mitschülerinnen und Mitschülern löschen, wenn sie Feuer gefangen hat.
	Augenspülflasche	Die Augenspülflasche kann Fremdkörper aus dem Auge auswaschen.
	Schutzbrille	Die Schutzbrille schützt meine Augen vor Fremdkörpern (z. B. Flüssigkeiten, Splitter).

A2 In diesen Fällen droht Gefahr. Trage die entsprechenden Maßnahmen in der freien Spalte der Tabelle ein.

Unfall mit einem Elektrogerät	NOT-AUS-Schalter drücken
Der Pulli deines Mitschülers hat Feuer	Löschdecke benutzen
Eine Person ist verletzt.	Erste Hilfe leisten; Notruf absetzen
Der Gasbrenner geht aus.	Gaszufuhr unterbrechen